

ページをすすめるときは、
右やじるしのボタンをおします。

前のページにもどるときは、
左やじるしのボタンをおします。

教科書とノートをよういしましょう。
まだ開かなくてよいです。


算数

たし算とひき算⑧



5月20日(水)


①できるようになったかな？

・p.71  2 ひっ算で計算しましょう。

①	$\begin{array}{r} \\ \\ \\ \hline \end{array}$	②	$\begin{array}{r} \\ \\ \\ \hline \end{array}$	③	$\begin{array}{r} \\ \\ \\ \hline \end{array}$
	$\begin{array}{r} \\ \\ \\ \hline \end{array}$		$\begin{array}{r} \\ \\ \\ \hline \end{array}$		$\begin{array}{r} \\ \\ \\ \hline \end{array}$
	$\begin{array}{r} \\ \\ \\ \hline \end{array}$		$\begin{array}{r} \\ \\ \\ \hline \end{array}$		$\begin{array}{r} \\ \\ \\ \hline \end{array}$

0は書かない！

①できるようになったかな？

・p.71  ひっ算で計算しましょう。

①

$$\begin{array}{r} \overset{5}{\cancel{6}} \overset{10}{2} 9 \\ - 351 \\ \hline 278 \end{array}$$

②

$$\begin{array}{r} \overset{1}{\cancel{2}} \overset{10}{5} 7 \\ - 183 \\ \hline 74 \end{array}$$

③

$$\begin{array}{r} \overset{8}{\cancel{9}} \overset{10}{0} 5 \\ - 375 \\ \hline 530 \end{array}$$

0は書かない！

② 今日のかだい

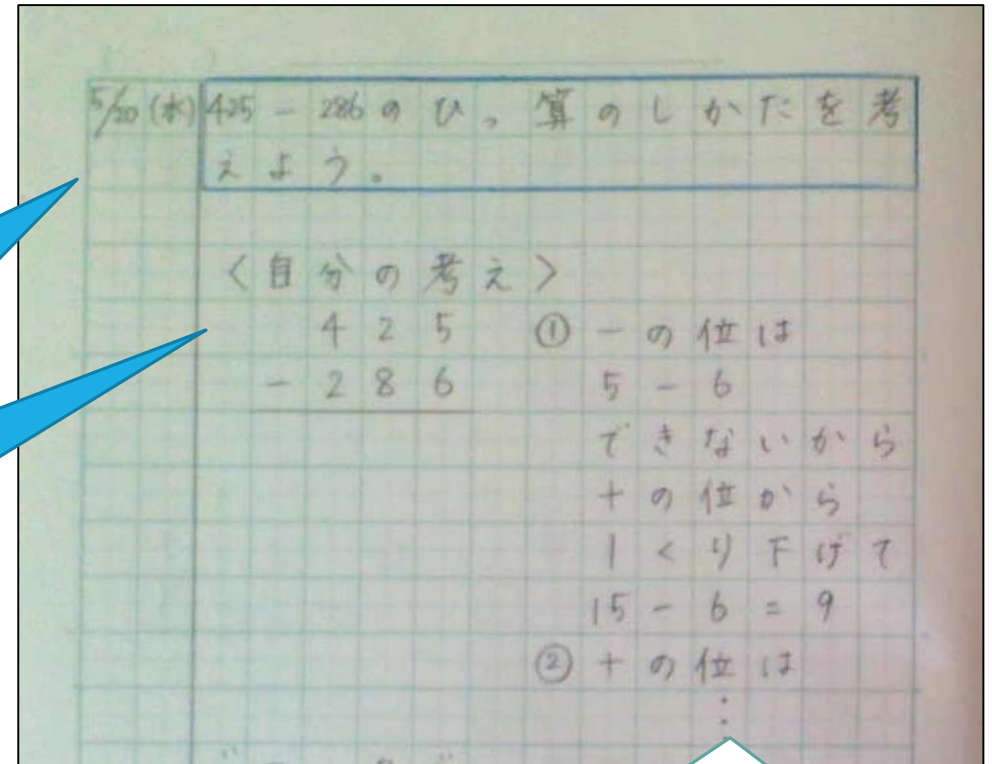
- ・つぎのもんだいをノートに書きましょう。

425－286のひっ算のしかたを考えよう。

- ・ノートにひっ算を書いて計算してみましょう。
(ノートのお手本はつぎのページ)

【ノートの使い方】

- ①日づけと曜日を書く
- ②左から2マスのところにじょうぎで線をひく
- ③問題を書いて、青でかこむ
- ④〈自分の考え〉と書いて、考えを書く。



★ひっ算で考えてみましょう。
よこに、せつめいもかけたらすごい！
せつ明のしかたは、お手本とちがっても
もちろんいいですよ。

書けたら、つぎにすすみましょう。

・ひっ算で計算してみると・・・

The diagram shows four stages of the subtraction process:

- Initial setup: $425 - 286$ with a horizontal line.
- Borrowing 1 from the tens place to the ones place: $4\overset{1}{\cancel{2}}5 - 286$, resulting in 9 in the ones place.
- Borrowing 1 from the hundreds place to the tens place: $3\overset{10}{\cancel{4}}\overset{1}{\cancel{2}}5 - 286$, resulting in 3 in the tens place and 9 in the ones place.
- Borrowing 1 from the hundreds place to the tens place: $3\overset{10}{\cancel{4}}\overset{1}{\cancel{2}}5 - 286$, resulting in 1 in the hundreds place, 3 in the tens place, and 9 in the ones place.

①十の位から
1くり下げる
一の位は
 $15 - 6 = 9$

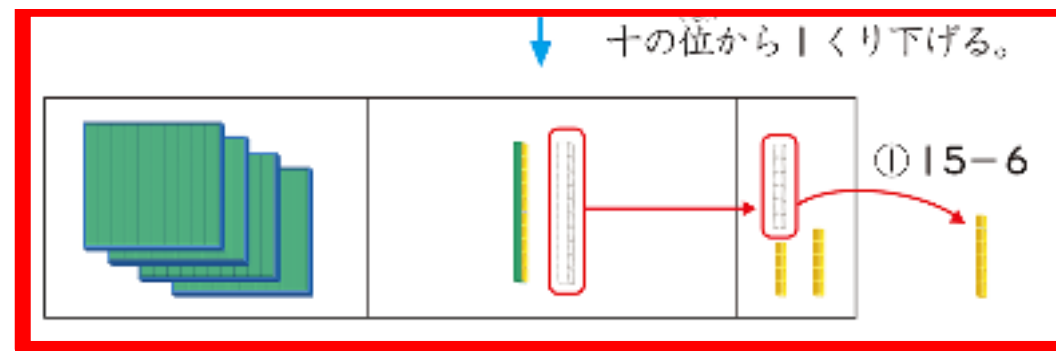
②百の位から
1くり下げる
十の位は
 $11 - 8 = 3$

③百の位は
 $3 - 2 = 1$
だから答えは
139

425 - 286

・ブロックで考えると・・・

①十の位から 1くり下げる
一の位は $15 - 6 = 9$



425 - 286

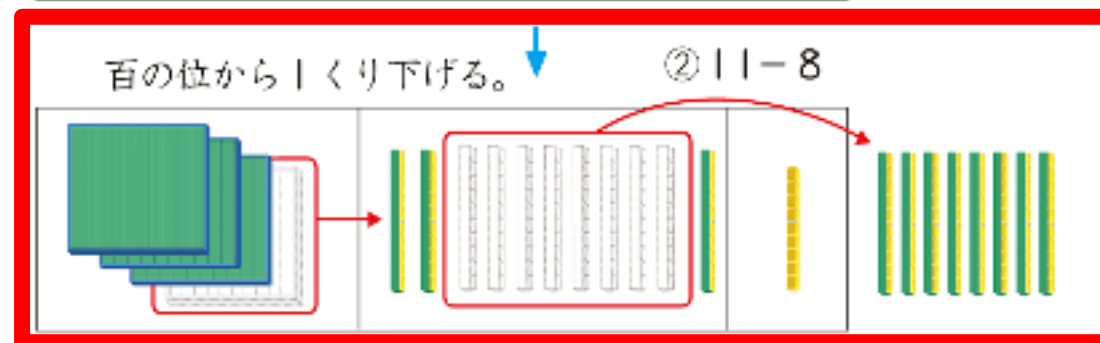
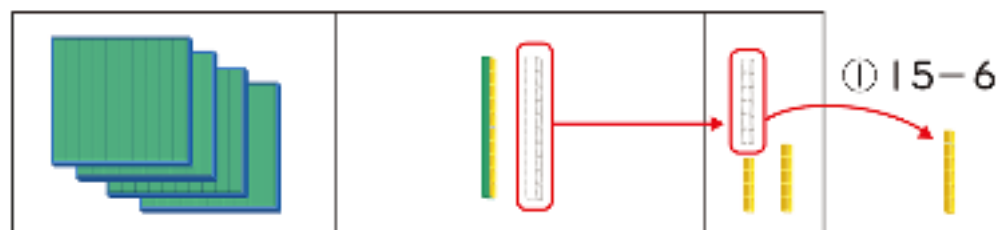
・ブロックで考えると・・・

①十の位から 1くり下げる
一の位は $15 - 6 = 9$

②百の位から 1くり下げる
十の位は $11 - 8 = 3$



↓ 十の位から1くり下げる。



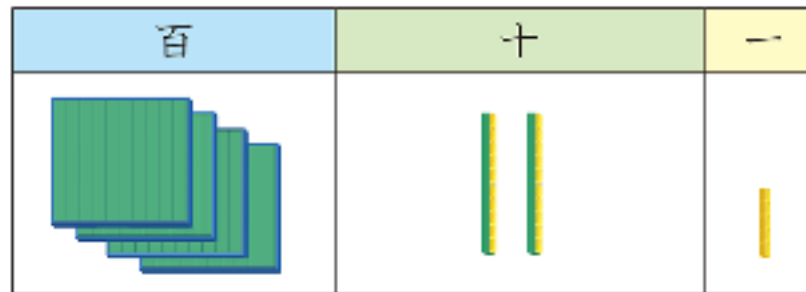
425 - 286

・ブロックで考えると・・・

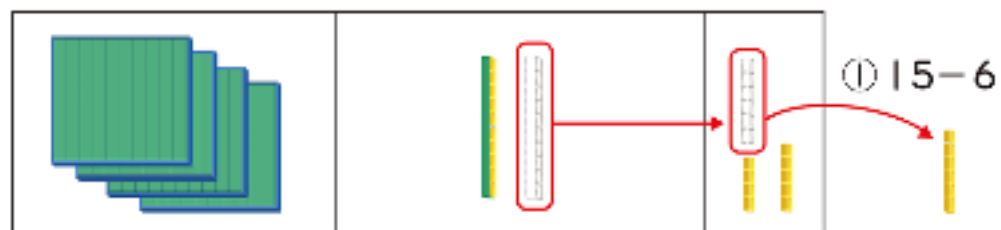
①十の位から 1くり下げる
一の位は $15 - 6 = 9$

②百の位から 1くり下げる
十の位は $11 - 8 = 3$

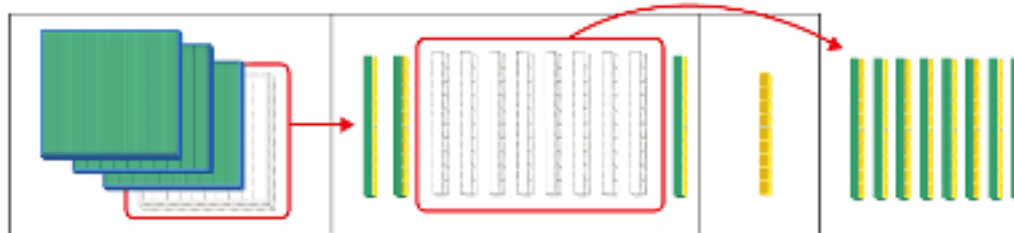
③百の位は $3 - 2 = 1$
だから答えは 139



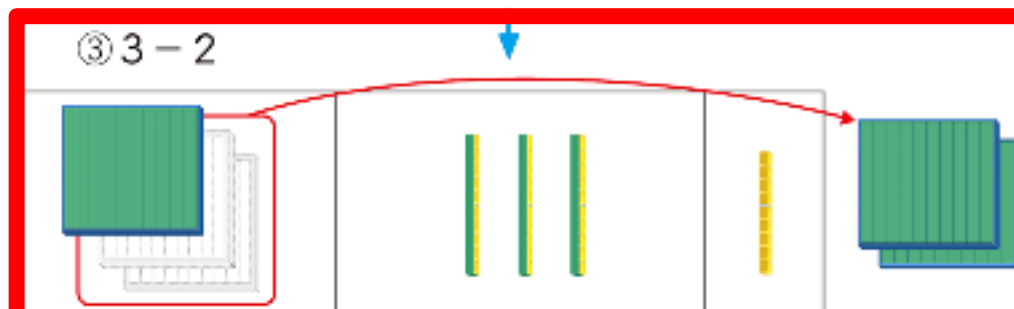
↓ 十の位から1くり下げる。



↓ 百の位から1くり下げる。 ② $11 - 8$



③ $3 - 2$



ところで

きのうと今日の計算のちがいは何かな？

きのう

$$\begin{array}{r} ^3 ^{10} \\ 3 \cancel{4} 2 \\ - 128 \\ \hline 214 \end{array} \quad \begin{array}{r} ^7 ^{10} \\ \cancel{8} 2 5 \\ - 451 \\ \hline 374 \end{array}$$

今日


$$\begin{array}{r} ^{10} \\ ^3 ^1 ^{10} \\ \cancel{4} \cancel{2} 5 \\ - 286 \\ \hline 139 \end{array}$$

・きのうはくり下がりが1回 今日くり下がりが2回 だね。

③たしかめよう

- 教科書72ページの $\triangleright 5$ をやりましょう。
- 終わったら、お家の人に丸つけをしてもらいましょう。
(後からでもかまいません。)

ページ数と問題の番ごうも
書きましょう



④計算ドリル

- ・計算ドリルと、計算ドリルノート
をよいしましょう。
- ・ **6** の **かだめし1** を計算ドリル
ノートにやりましょう。
- ・おわったら、お家の人に丸つけをして
もらいましょう。(後からでもかまいません。)

1つ5点 8分

6 **かだめし** **1. かけ算**

かだめし にあてはまる数を書きましょう。

① $9 \times 5 = 9 \times 4 + \square$

② $8 \times \square = 8 \times 9 - 8$

③ $9 \times 6 = \square \times 9$ ⑦ $4 \times \square = 5 \times 4$

④ $8 \times 5 = \square \times 8$ ⑧ $2 \times \square = 7 \times 2$

⑤ $7 \times 9 = 9 \times \square$ ⑨ $\square \times 3 = 3 \times 4$

⑥ $6 \times 5 = 5 \times \square$ ⑩ $\square \times 8 = 8 \times 9$

⑪ 6×8 $\left\{ \begin{array}{l} 6 \times 3 = \square \\ 6 \times \square = \square \\ \text{合わせて} \square \end{array} \right.$

⑫ 6×8 $\left\{ \begin{array}{l} 2 \times 8 = \square \\ \square \times 8 = \square \\ \text{合わせて} \square \end{array} \right.$

今日の算数の学習は、これでおしまいです！
算数ノートと計算ドリルノートをしゃしんにとって
「せんせいにわたす」にアップロードしましょう★

よくがんばりました！！

