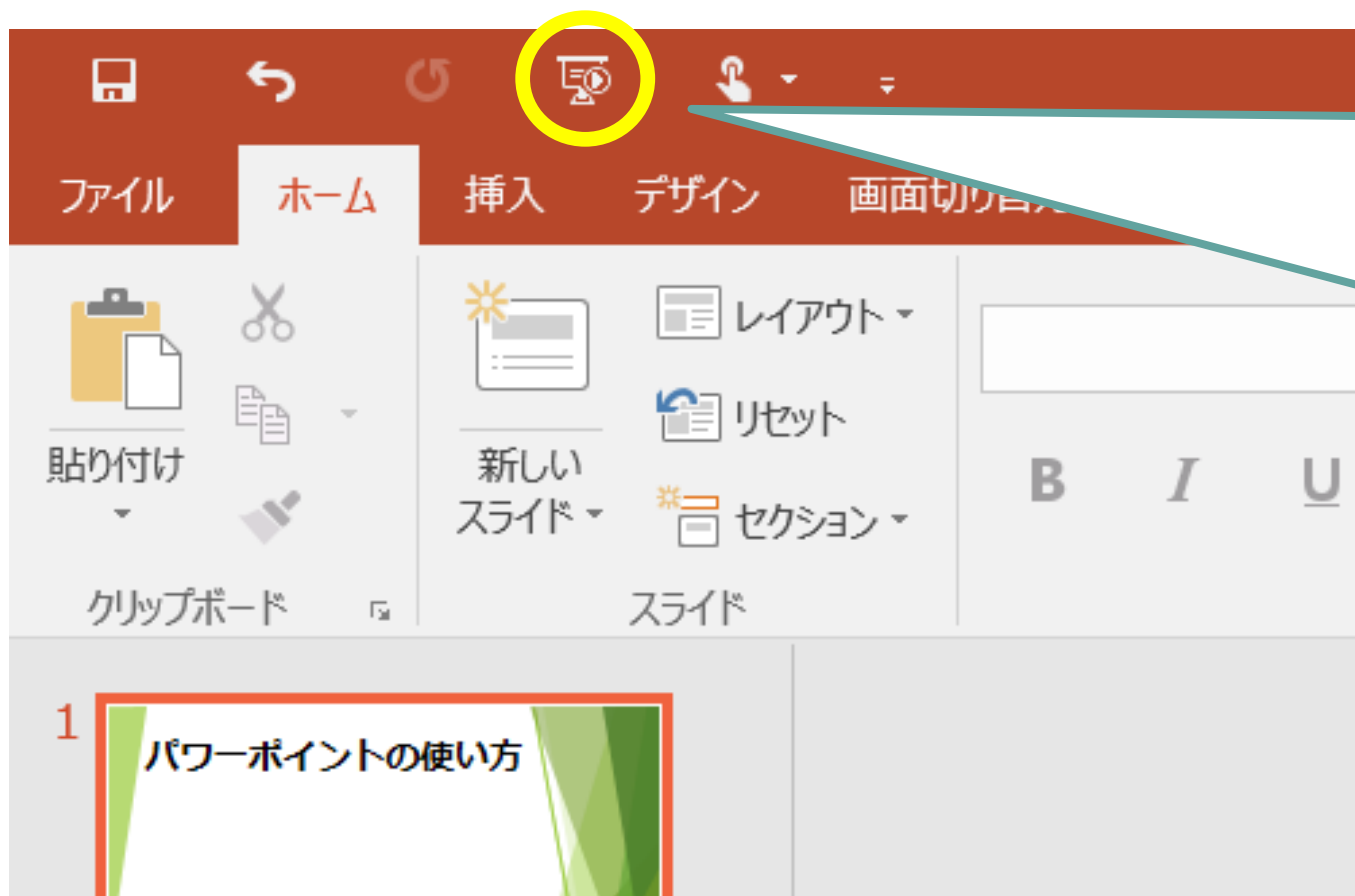


パワーポイントのつかい方



がめん左上の



このボタンを
おしてははじめよう！

ページをすすめるときは、
右やじるしのボタンをおします。

前のページにもどるときは、
左やじるしのボタンをおします。

教科書とノートをよういしましょう。
まだ開かなくてよいです。

算数

たし算とひき算②



5月12日(火)

① できるようになったかな？

・p.64  ひっ算で計算しましょう。

$$\begin{array}{r} \textcircled{1} \quad 153 \\ + 425 \\ \hline 578 \end{array}$$

$$\begin{array}{r} \textcircled{2} \quad 261 \\ + 637 \\ \hline 898 \end{array}$$

①できるようになったかな？

$$\begin{array}{r} \textcircled{3} \quad 437 \\ + 302 \\ \hline 739 \end{array}$$

$$\begin{array}{r} \textcircled{4} \quad 502 \\ + 207 \\ \hline 709 \end{array}$$

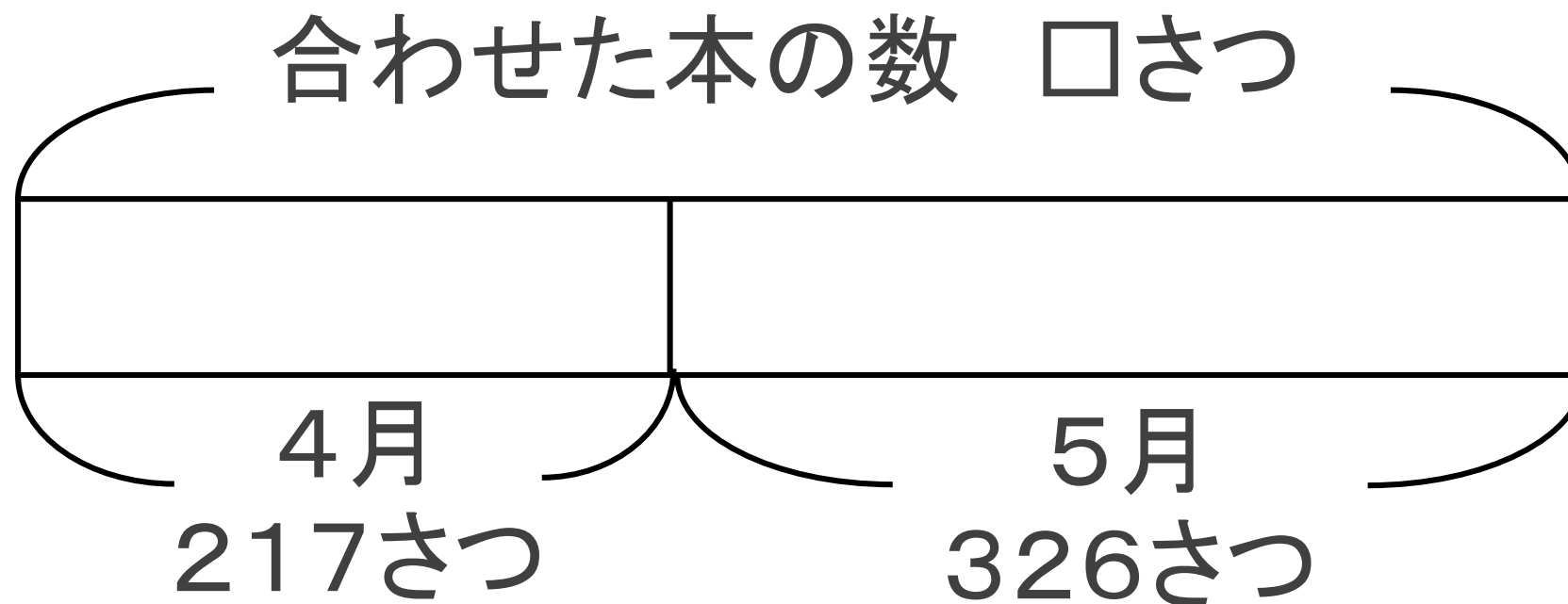
②今日のかだい

- ・つぎのもんだいをノートに書き、声に出して読みましょう。



図書館でかし出した本は、4月が217さつ、5月が326さつでした。
4月と5月に図書館でかし出した本は、合わせて何さつでしたか。

- ・きのうと同じように、もんだいを図にあらわすとどうなるでしょうか。



- ・上の図をノートに書きましょう。(言葉はちがっていてもよいですよ。)

・式を書きましょう。

217 + 326 ですね。

・およそ何さつになりますか。

だいたい200 + 300だから・・・



ゆい

500さつよりは多いですね。

2つの計算のちがいは何かな？



215円



143円

$$\begin{array}{r} 215 \\ + 143 \\ \hline \end{array}$$

$$\begin{array}{r} 217 \\ + 326 \\ \hline \end{array}$$



今日の問題にはくり上がりがあるね！

・今日は、くり上がりがある、3けたどうしのたし算について考えます。

・ノートにひっ算で計算しましょう。

(ノートのお手本はつぎのページ)



【ノートの手書き方】

①日づけと曜日を書く

②左から2マスのところじょうぎで線をひく

③問題を書く

④〈自分の考え〉と書いて、考えを書く。

★ひっ算で考えてみましょう。
よこに、せつめいもかけたらすごい！

書けたら、つぎにすすみましょう。

5/2(火) 図書館でかした出した本は、4
月が217さつ、5月が326さつで
した。4月と5月に図書館で
かした出した本は、合わせて何
さつでしたか。

合わせた本の数□さつ

4月 217さつ 5月 326さつ

式 $217 + 326$

〈自分の考え〉

2	1	7	一の位は
+	3	2	6
			7 + 6 = 13
			⋮
			⋮

・ひっ算で計算してみると・・・

くり上がりをわすれないように書いておこう。



	2	1	7
+	3	2	6
<hr/>			



	2	1	7
+	3	2	6
<hr/>			
		1	3



	2	1	7
+	3	2	6
<hr/>			
		4	3



	2	1	7
+	3	2	6
<hr/>			
	5	4	3

一の位は
 $7 + 6 = 13$
十の位に
1くりあげる

十の位は
 $1 + 2 + 1 = 4$

百の位は
 $2 + 3 = 5$
だから答えは
543

③せつめいしよう

- ・つぎは、 $275 + 564$ です。
- ・ひっ算のしかたを、声に出してせつめいしてみましょう。

	2	7	5
+	5	6	4
<hr/>			

 →

	2	7	5
+	5	6	4
<hr/>			
			9

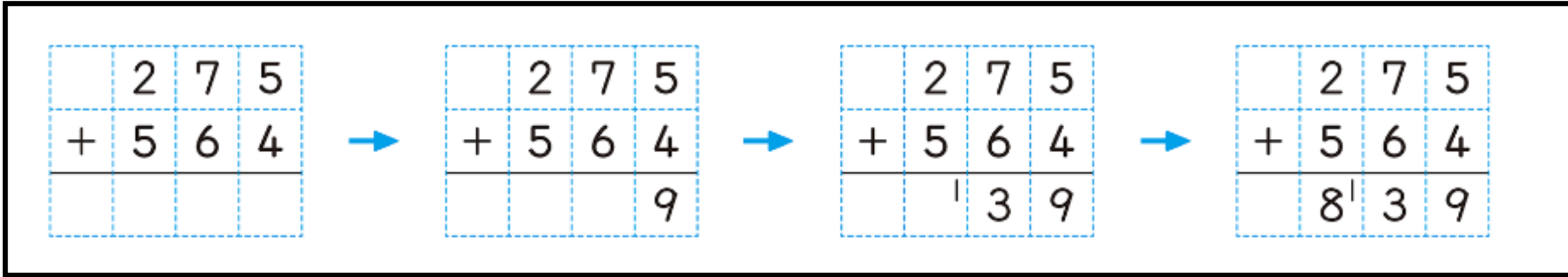
 →

	2	7	5
+	5	6	4
<hr/>			
		1	3 9

 →

	2	7	5
+	5	6	4
<hr/>			
	8	1	3 9

・せつめいできたかな？
たとえば、こんな感じに・・・



まず、
位をそろえて
書きます。

一の位は
 $5 + 4 = 9$

十の位は
 $7 + 6 = 13$
百の位に
1くり上げる

百の位は
 $2 + 5 + 1 = 8$
だから答えは
839

ところで・・・2つの計算のちがいは何かな？

$$\begin{array}{r} 217 \\ + 326 \\ \hline 54\textcircled{1}3 \end{array}$$

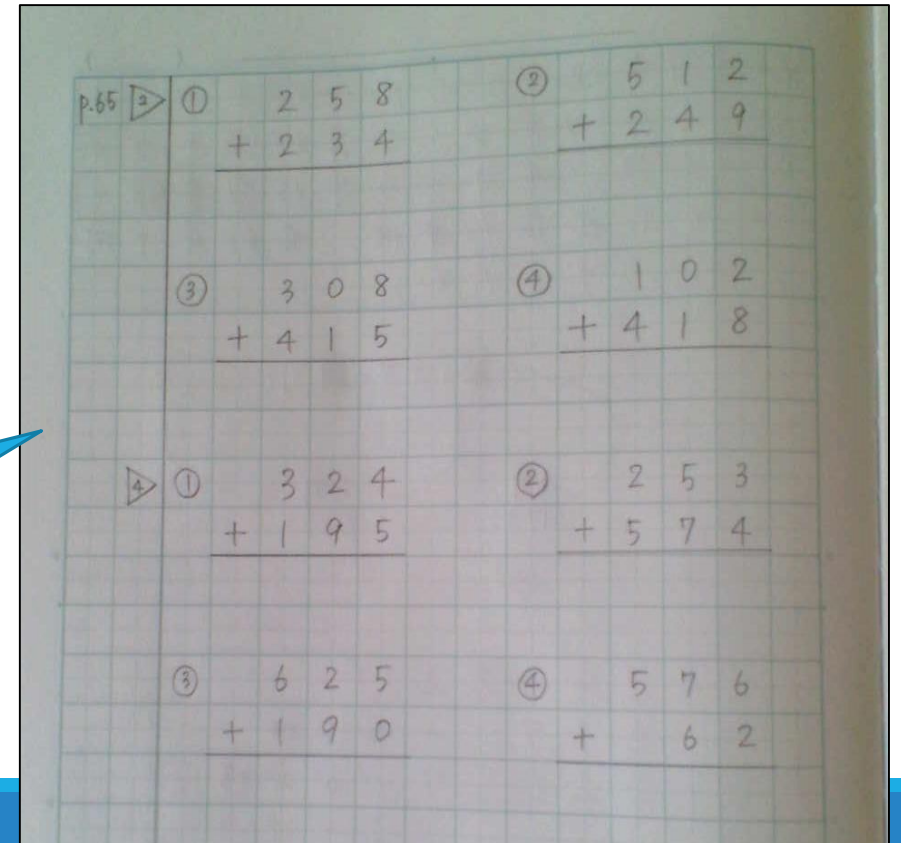
$$\begin{array}{r} 275 \\ + 564 \\ \hline 8\textcircled{1}39 \end{array}$$

- ・1つめは十の位にくり上がる 2つめは百の位にくり上がるね。
- ・明日は、どんな計算をしたいと思いますか？考えてみてね。

④たしかめよう

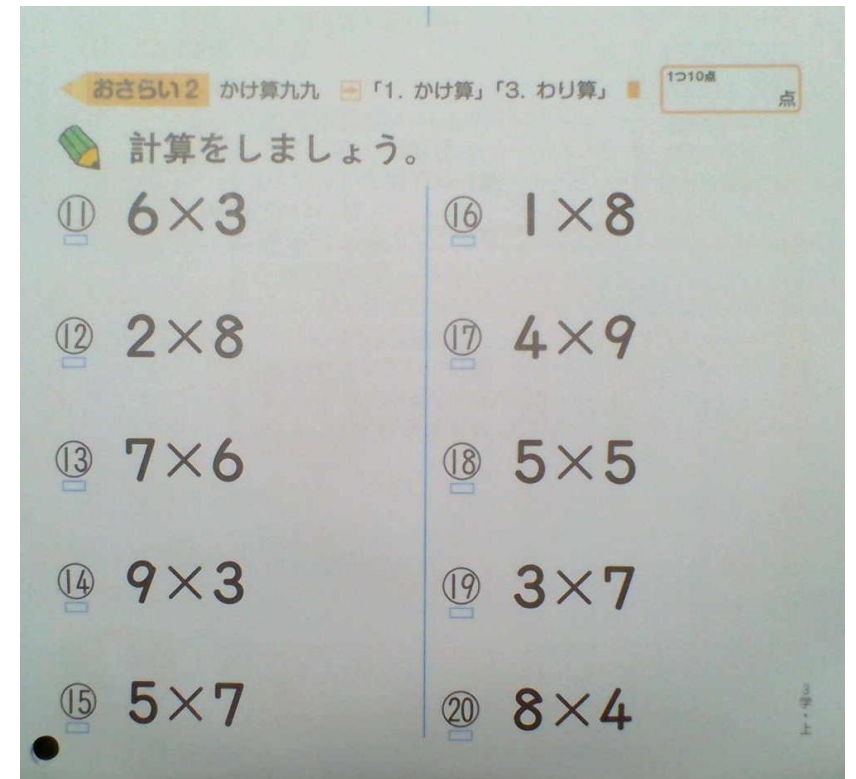
- ・教科書65ページの $\triangleright 2$ と $\triangleright 4$ をやりましょう。
- ・おわったら、お家の人に丸つけをしてもらいましょう。
(後からでもかまいません。)

ページ数と問題の番ごうも
書きましょう



⑤計算ドリル

- ・計算ドリルと、計算ドリルノート
をよいいしましょう。
- ・ **2** の おさらい2 を計算ドリル
ノートにやりましょう。
- ・おわったら、お家の人に丸つけをして
もらいましょう。(後からでもかまいません。)



今日の算数の学習は、これでおしまいです！
算数ノートと計算ドリルノートをしゃしんにとって
「せんせいにわたす」にアップロードしましょう★

よくがんばりました！！

